

**Часть 1: Каждое задание оценивается в 0,9 балла.**

**1. Какая из перечисленных стран граничит на севере с Францией, Австрией и Швейцарией?**

- A) Италия                      B) Словения                      C) Испания                      D) Сан-Марино

**2. Какие страны обозначены цифрами 1 и 2 на карте-схеме ниже?**



- A) Йемен и Таиланд                      B) Оман и Вьетнам  
C) ОАЭ и Малайзия                      D) Катар и Мьянма

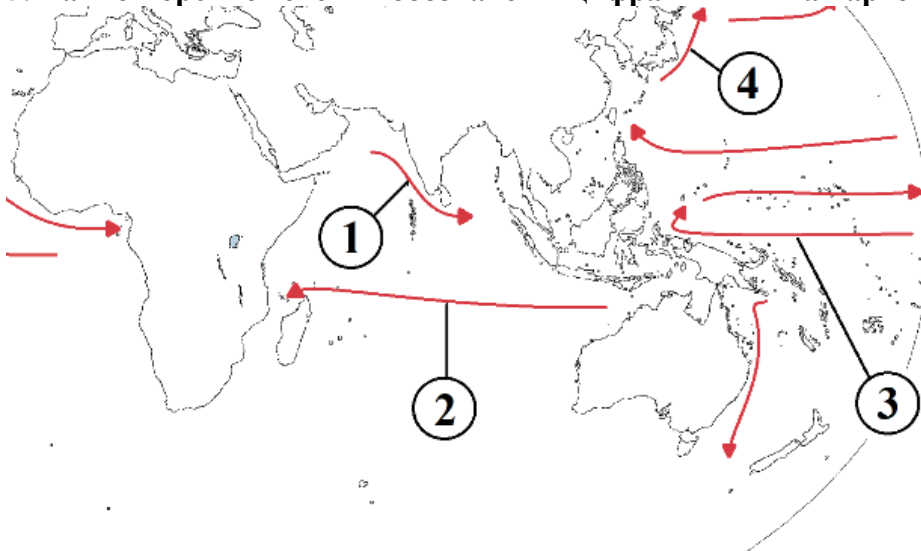
**3. Ветер Хамсин характерен для какого материка?**

- A) Евразия                      B) Африка                      C) Южная Америка                      D) Австралия

**4. В какой горной складке был поднят Трансантарктический хребет?**

- A) Альп                      B) Байкал                      C) Каледон                      D) Херсин

**5. Какие морские течения обозначены цифрами 1 и 4 на карте-схеме ниже?**



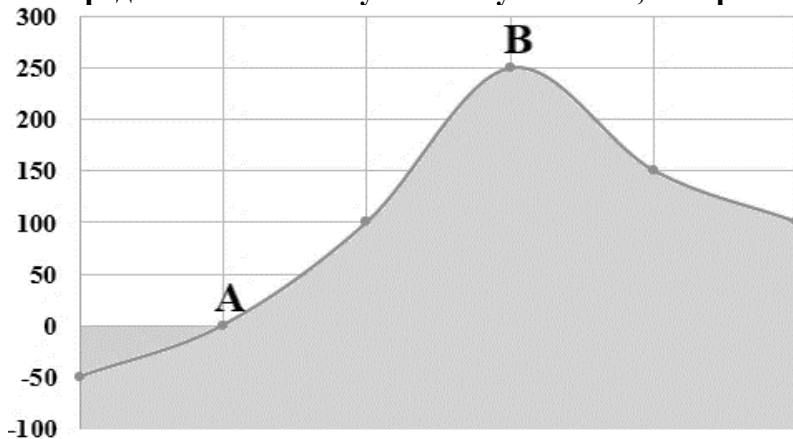
- A) Северное Пассатное и Гольфстрим                      B) Сомали и Северо-Тихоокеанское  
C) Муссонное и Курисио                      D) Бенгалское и Канарское

**6. Какой процент территории Малайзии составляют экваториальные леса?**

- A) 50%                      B) 80%                      C) 70%                      D) 60%



7. Определите абсолютную высоту точки В, изображенной на графике.

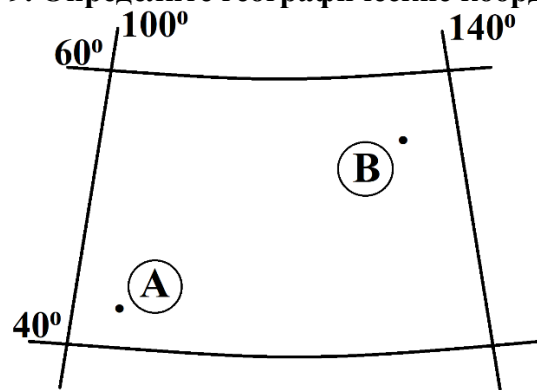


- A) 200 м                      B) 250 м                      C) 300 м                      D) 150 м

8. В какой залив впадает река Рио-Гранде?

- A) Мексиканский зал.      B) Калифорнийский зал.      C) Гудзонов зал.              D) зал. Аляска

9. Определите географические координаты точки А, указанные на рисунке ниже.



- A) 42° с.ш., 110° в.д.                      B) 48° с.ш., 135° в.д.  
C) 44° ю.ш., 105° з.д.                      D) 42° ю.ш., 110° з.д.

10. Определите место впадения реки Шари.

- A) Гвинейский залив      B) залив Акоба                      C) озеро Чад                      D) озеро Ньяса

Часть 2: Каждое задание оценивается в 1,5 балла.

11. Какая из перечисленных научно-исследовательских станций расположена у берегов моря Росса?

- A) Восток                      B) Мак-Мердо                      C) Санаэ                      D) Мирный

12. Определите ответ, данный крупнейшим рекам Средней Азии и их длинам.

1	Амударья	a	3019 км
2	Сырдарья	b	2540 км
3	Или	c	1384 км

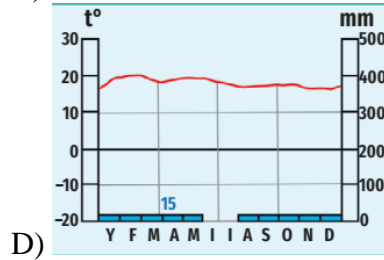
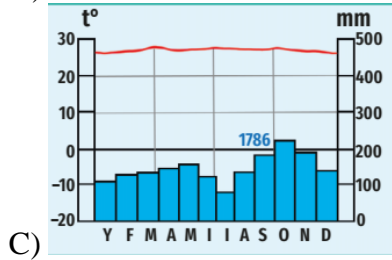
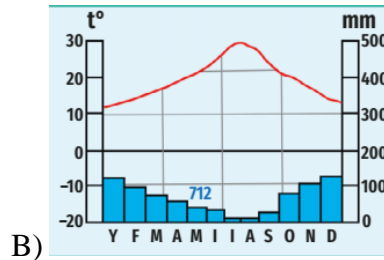
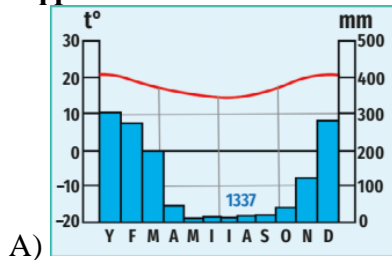
- A) 1-b, 2-с, 3-а                      B) 1-b, 2-а, 3-с                      C) 1-а, 2-b, 3-с                      D) 1-d, 2-b, 3-а

13. Название следующего озера означает «вода» на индуистском языке?

- A) Атабаска                      B) Мичиган                      C) Онтарио                      D) Виннипег



14. Какой вариант описывает климатические особенности экваториального климатического пояса Африки?



15. В какой части Азии находится Малоазиатский полуостров?

- A) на западе      B) на юге      C) на востоке      D) на юго-востоке

16. Если население Франции составляет 65,1 млн человек, а площадь 551,6 тыс. кв. км, определите среднюю плотность населения страны.

- A) 182,2 чел./кв. км      B) 145,1 чел./кв. км      C) 118,0 чел./кв. км      D) 203,3 чел./кв. км

17. Какие страны обозначены на карте цифрами 4 и 5?



- A) Перу и Эквадор      B) Колумбия и Венесуэла  
C) Суринам и Уругвай      D) Боливия и парагвай

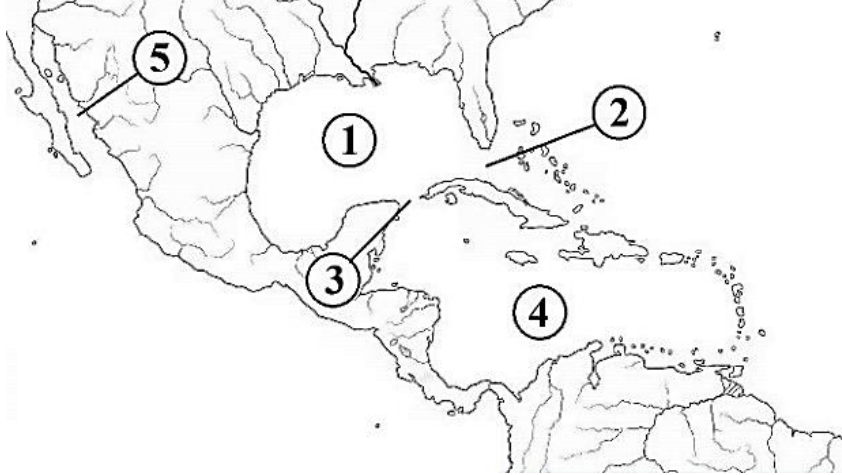
18. Германия импортирует большую часть угля из какой страны?

- A) Австрия      B) Франция      C) Украина      D) Австралия





19. Узнайте, какие числа обозначают Карибское море и Калифорнийский залив на карто-схеме ниже.



- A) 4 и 1      B) 1 и 5      C) 4 и 5      D) 1 и 3

20. Какая из перечисленных ниже отраслей не входит в состав агропромышленного комплекса?

- A) Нефтовая химия      B) Сельское хозяйство  
C) Легкая промышленность      D) Пищевая промышленность

21. Определите соответствующий ответ для городов Ферганской долины и их абсолютных высот.

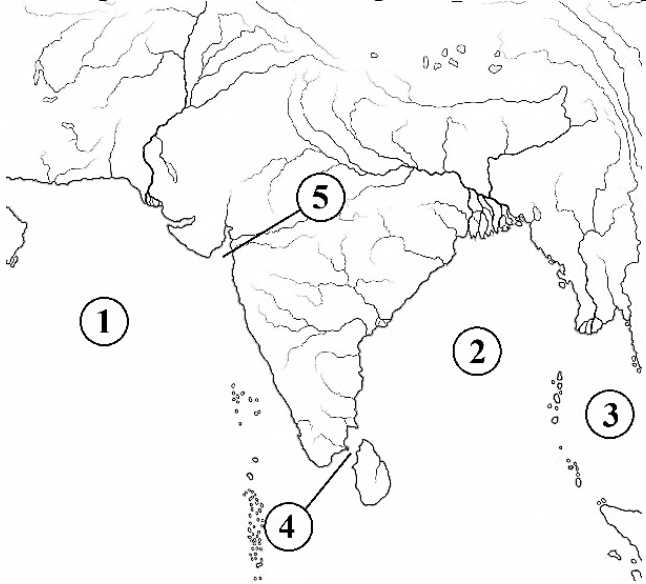
1	Андижан	a	449 м
2	Фергана	b	496 м
3	Наманган	c	578 м

- A) 1-b, 2-a, 3-c      B) 1-a, 2-c, 3-b      C) 1-c, 2-a, 3-b      D) 1-b, 2-c, 3-a

22. Какой из перечисленных населенных пунктов не относится к территории Ташкентской агломерации?

- A) Сиджак      B) Бахт      C) Достабад      D) Алмазар

23. Определите, какие моря обозначены цифрами 1 и 3 на карто-схеме ниже.



- A) Аравийское и Бенгальский      B) Красное и Южно-китайское  
C) Баренцево и Филиппинское      D) Аравийское и Андаманское





24. Овощеводство, картофелеводство и бахчеводство не занимают большой территории вокруг какого из следующих городов?

- A) Зерафшан                      B) Ташкент                      C) Андижан                      D) Самарканд

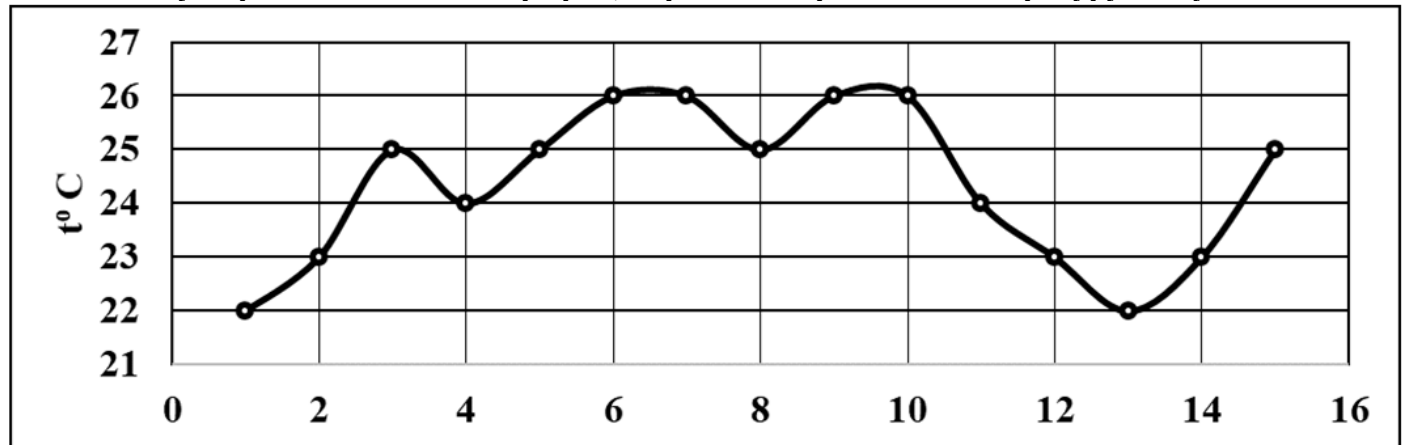
25. На основании приведенной ниже таблицы определите ответ, который дают океаны и их моря.

1	Тихий океан	a	Скош, Уэдделл, Лазарев
2	Атлантический океан	b	Чукотка, Бофорт, Баффин
3	Индийский океан	c	Росс, Амундсен, Беллинсгаузен
4	Северный Ледовитый океан	d	Содружество, Космонавты, Рисер-Ларсен

- A) 1-a, 2-c, 3-b, 4-d      B) 1-a, 2-b, 3-c, 4-d      C) 1-c, 2-a, 3-d, 4-b      D) 1-c, 2-d, 3-a, 4-b

Часть 3: Каждое задание оценивается в 2,6 балла.

26. Используя приведенный ниже график, определите среднюю температуру воздуха за 15 дней.



- A) 23,8°C                      B) 24,3°C                      C) 25,1°C                      D) 24,5°C

27. Сколько кг угля необходимо для получения 500 кВтч электроэнергии?

- A) 1000 кг                      B) 500 кг                      C) 250 кг                      D) 100 кг

28. Какие горные хребты обозначены цифрами 2 и 4 на рисунке ниже?



- A) Нуратинский и Моргузарский хребты                      B) Туркестанский и Нуратинский хребты  
C) Туркестанский и Зерафшанский хребты                      D) Моргузарский и Зерафшанский хребты



29. Основываясь на следующей информации, определите правильный ответ, соответствующий диаграмме Эйлера-Венна.

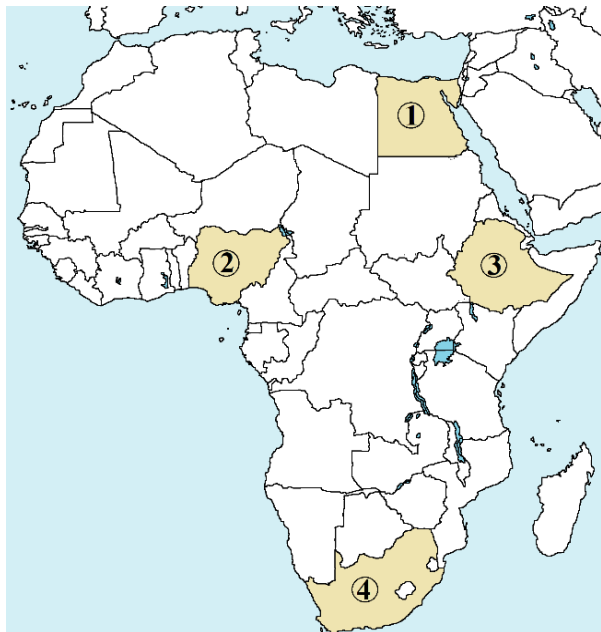
Внешняя торговля Узбекистана с зарубежными странами (импорт, в % от общего объема, 2017 г.)				
I	Узбекистан			
II	Россия	a)		5,2 %
III	Китай	b)		7,7 %
IV	Казахстан	c)		21,0 %
V	Турция	d)		20,8 %

- A)
- B)
- C)
- D)

30. Отметьте правильный ответ в последовательности стран-лидеров по производству пшеницы в мире.

- A) Китай, Индия, Россия, США, Канада  
B) США, Индия, Канада, Россия, ЮАР  
C) Китай, Россия, Бразилия, Аргентина, США  
D) Канада, США, Россия, Индия, Польша

31. Какие реки делят по рельефу территорию страны, обозначенную цифрой 2 на следующей карте-схеме?

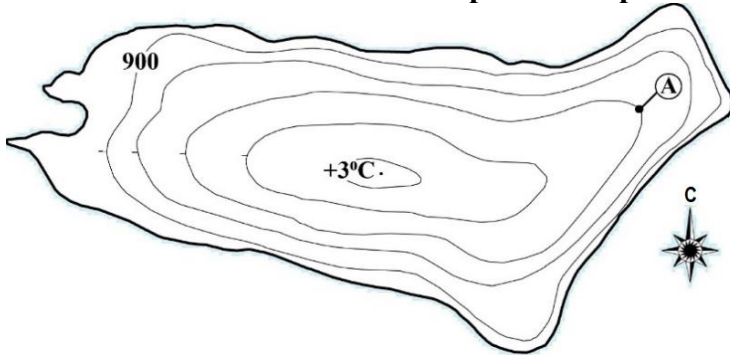


- A) Замбези и Оранжев  
B) Сенегал и Вольта  
C) Шари и Лимпопо  
D) Нигер и Бенуэ



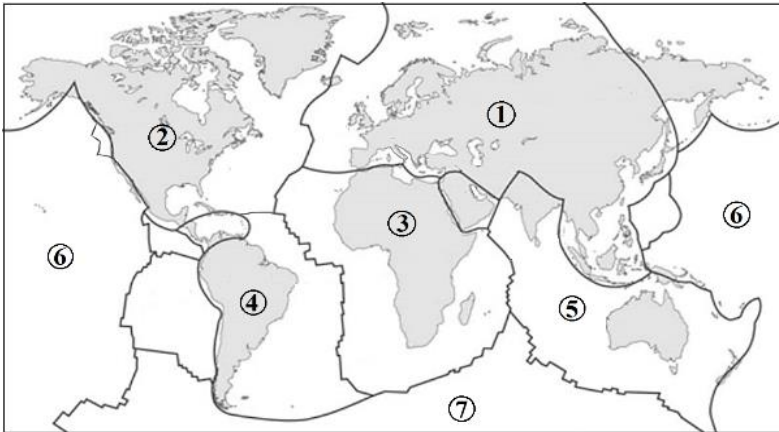


32. Определите, с какой стороны горизонта точка А, показанная на рисунке ниже, находится по отношению к самой высокой вершине острова.



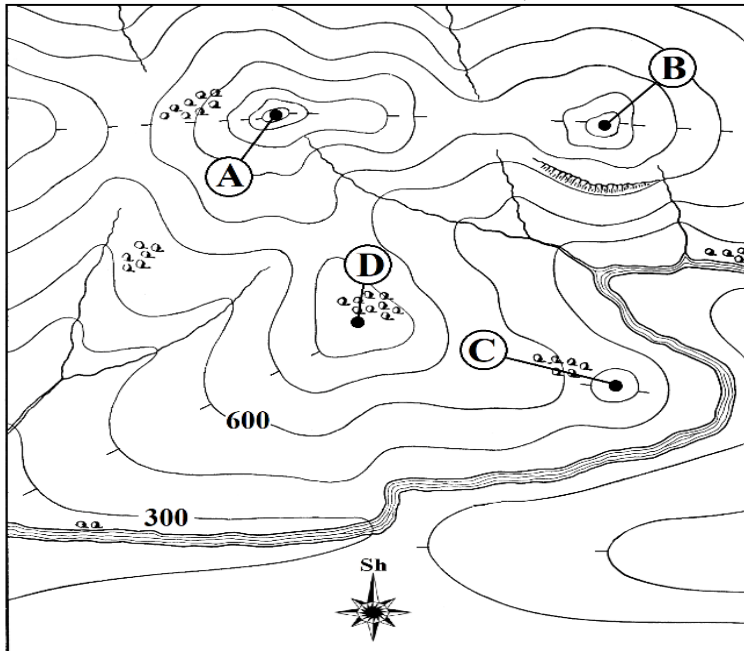
- A) на север      B) на северо-восток      C) на северо-запад      D) на юго-запад

33. Какими цифрами на рисунке обозначены Южноамериканская и Тихоокеанская литосферные плиты?



- A) 1 и 2      B) 7 и 5      C) 3 и 5      D) 4 и 6

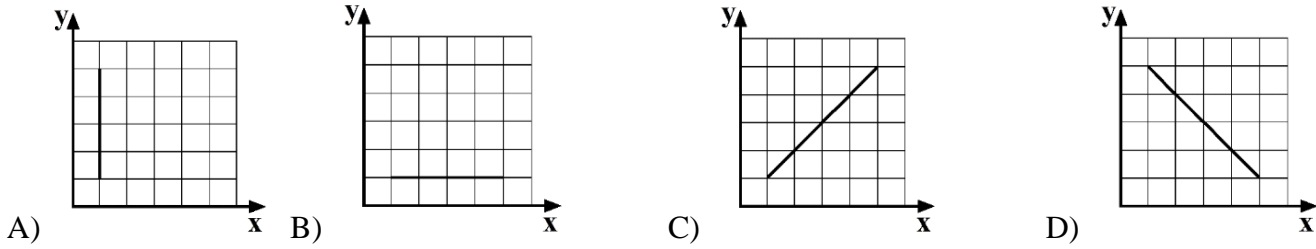
34. Если Вы подниметесь на холм А, на сколько метров вы подниметесь по сравнению с холмом В?



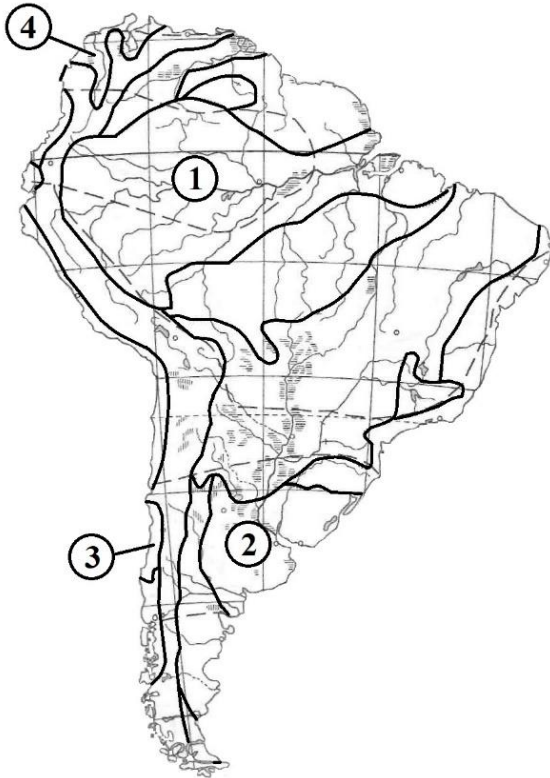
- A) 300 м      B) 200 м      C) 150 м      D) 600 м



35. Какой из следующих графиков правильно описывает зависимость между скоростью ветра (x) и разностью атмосферного давления (y)?



36. На следующей карте-схеме найдите соответствующие номера природных зон лиственных вечнозеленых лесов и кустарников (средиземноморского типа) и экваториальных лесов.

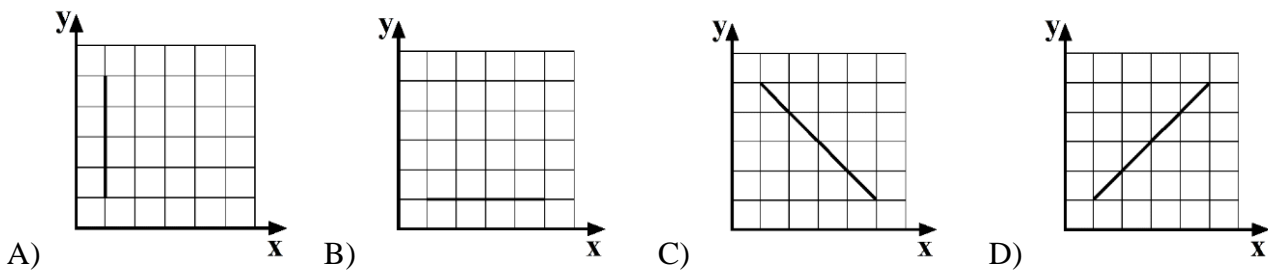


- A) 4 и 1      B) 3 и 1      C) 3 и 4      D) 2 и 1

37. К какой промежуточной расе принадлежат жители стран Центральной Азии?

- A) Памиро-Ферганский      B) Эфиопский      C) Уральский      D) Австралоидный

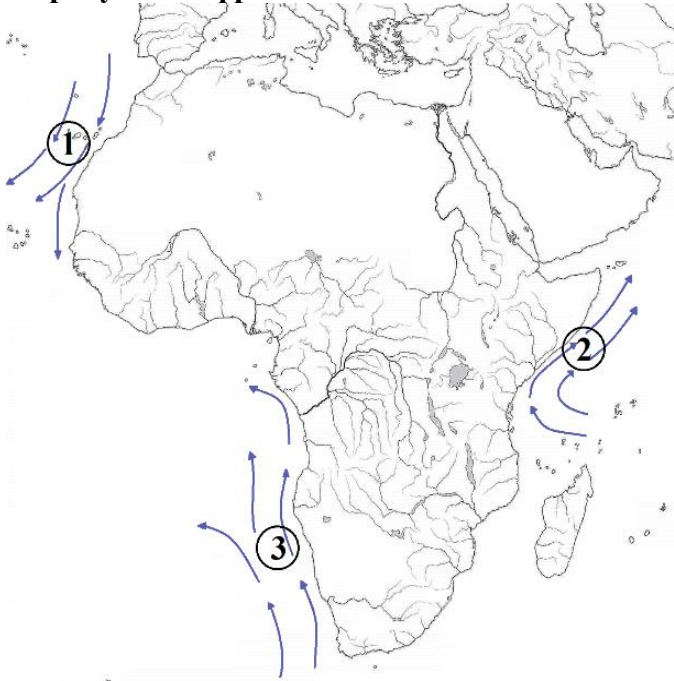
38. Какой из следующих графиков правильно описывает зависимость между протяженностью горизонта (x) и высотой места (y)?







39. Какая из перечисленных пустынь образовалась под влиянием морского течения, обозначенного на рисунке цифрой 3?



- A) Сахара      B) Атакама      C) Тар      D) Намиб

40. Определите научно-исследовательские станции в Антарктиде и какой стране они принадлежат.

Научно-исследовательские станции		Страны	
1	Мак-Мердо	a	США
2	Восток	b	Россия
3	Кейси	c	Австралия
4	Сингю	d	Великобритания
5	Санаэ	e	ЮАР

- A) 1-a, 2-c, 3-b, 4-d, 5-e      B) 1-a, 2-b, 3-c, 4-d, 5-e  
C) 1-d, 2-c, 3-a, 4-e, 5-b      D) 1-d, 2-c, 3-e, 4-b, 5-a

